



แบบทดสอบความสามารถด้านเหตุผล
ชั้นประถมศึกษาปีที่ 3
ปีการศึกษา 2558

สำนักทดสอบทางการศึกษา
สำนักงานคณะกรรมการการศึกษาขั้นพื้นฐาน

แบบทดสอบนี้เป็นเอกสารลับของทางราชการ
ห้ามคัดลอกเปิดเผยหรือนำไปเผยแพร่

สงวนลิขสิทธิ์

คำชี้แจงแบบทดสอบความสามารถด้านเหตุผล ชั้นประถมศึกษาปีที่ 3

แบบทดสอบฉบับนี้มี 30 ข้อ คะแนนเต็ม 35 คะแนน ใช้เวลา 60 นาที แบ่งออกเป็น 2 ตอน ดังนี้
ตอนที่ 1 แบบเลือกตอบ ข้อ 1 - 27 เลือกคำตอบที่ถูกต้องที่สุดเพียงคำตอบเดียว จำนวน 27 ข้อ
(ข้อ 1 – ข้อ 27) ข้อละ 1 คะแนน รวม 27 คะแนน

ตัวอย่าง ข้อ 0. พิจารณาข้อความ แล้วตอบคำถาม

ผีเสื้อเป็นแมลงชนิดหนึ่งที่มีปีกสวยงาม หลากหลายสีสัน ตัวเต็มวัยกินน้ำหวานจากดอกไม้เป็นอาหารและมีอายุอยู่ได้เพียง 3 – 4 สัปดาห์เท่านั้นก็จะตายลง

ถ้าต้องการเห็นผีเสื้อบินวนเวียนไปมาให้ชมความสวยงามตลอดปี ควรปฏิบัติอย่างไร

- 1) สร้างกรงเลี้ยงผีเสื้อ เพื่อไม่ให้ผีเสื้อบินไปที่อื่น
- 2) ซื้อผีเสื้อตัวมาไว้ที่บ้าน เพื่อจะได้ดูผีเสื้อได้ตลอดเวลา
- 3) ปลูกลำต้นดอกไม้พร้อมกัน เพื่อดึงดูดผีเสื้อมากินน้ำหวาน
- 4) บันทึกรูปภาพเคลื่อนไหว เพื่อจะได้เปิดดูทางคอมพิวเตอร์หรือโทรทัศน์

วิธีตอบ ให้นักเรียนเลือกคำตอบที่ถูกต้องที่สุดเพียงคำตอบเดียว โดยระบายทับตัวเลขที่ตรงกับตัวเลือกที่ต้องการลงในกระดาษคำตอบ ถ้านักเรียนคิดว่า ตัวเลือก 3) เป็นคำตอบที่ถูกต้อง ให้ระบายในกระดาษคำตอบทับตัวเลข ดังนี้

ข้อ 0.	①	②	●	④
--------	---	---	---	---

ตอนที่ 2 แบบเขียนตอบ ข้อ 28 - 30 ให้นักเรียนเขียนคำตอบที่ถูกต้องลงในแบบทดสอบ จำนวน 3 ข้อ
(ข้อ 28 – ข้อ 30) โดยข้อที่ 28 – 29 ข้อละ 2 คะแนน และข้อ 30 ข้อละ 4 คะแนน

ตัวอย่าง ข้อ 00. พิจารณาข้อความ แล้วตอบคำถาม

ด.ช.เก่ง เห็นเพื่อนๆ แอบไปซื้อขนมนอกบริเวณโรงเรียนอยู่บ่อยๆ โดยที่คุณครูจับไม่ได้
ด.ช.เก่ง จึงแอบออกไปซื้อขนมนอกโรงเรียนบ้าง

จากสถานการณ์ดังกล่าว การกระทำของ ด.ช.เก่ง เหมาะสมหรือไม่ เพราะเหตุใด

ตอบ

วิธีตอบ ให้นักเรียนเขียนคำตอบให้ถูกต้อง ดังนี้

ข้อ 00. ตอบ ไม่เหมาะสม เพราะผิดกฎระเบียบของโรงเรียน

อย่าเปิดแบบทดสอบจนกว่ากรรมการคุมสอบจะอนุญาต

ตอนที่ 1 แบบเลือกตอบ ข้อ 1 – 27 ให้นักเรียนเลือกคำตอบที่ถูกต้องที่สุดเพียงคำตอบเดียว

1. พิจารณาภาพ แล้วตอบคำถาม



ภาพที่ 1



ภาพที่ 2

เหตุผลใดสนับสนุนเหตุการณ์ในภาพมากที่สุด

- 1) โคมลอยเป็นสิ่งสวยงามอยู่คู่กับคนไทย
- 2) โคมลอยควรปล่อยเฉพาะตอนกลางคืนเท่านั้น
- 3) โคมลอยควรปล่อยเฉพาะวันลอยกระทงเท่านั้น
- 4) โคมลอยเมื่อตกจะทำให้เกิดอันตรายแก่บ้านเรือนได้

2. พิจารณาข้อความ แล้วตอบคำถาม

ไนโตรเจนในปุ๋ยเป็นธาตุอาหารของพืช ที่บำรุงยอด กิ่งใบ โปแทสเซียมบำรุงราก ส่วนฟอสฟอรัสบำรุงดอกและผล

การปลูกผักบุ้งจิ้นควรใช้ปุ๋ยชนิดใดมากที่สุด เพราะเหตุใด

- 1) ปุ๋ยฟอสฟอรัส เพราะจะทำให้ดอกออกเร็ว
- 2) ปุ๋ยโปแทสเซียม เพราะรากยึดดินได้ดีไม่ล้มง่าย
- 3) ปุ๋ยไนโตรเจน เพราะจะทำให้มียอดอ่อนและใบเขียว
- 4) ปุ๋ยโปแทสเซียม เพราะจะทำให้มีรากมาก ลำต้นใหญ่

3. พิจารณาข้อความ แล้วตอบคำถาม

ลุงมีบอกว่า ตนเองเป็นหมอเวทาดสามารถรักษาได้ทุกโรคด้วยสมุนไพร แต่ตัวเองก็ยังเป็นโรคผิวหนัง เมื่อลุงมาบ่นปวดหลัง ลุงมีจึงอาสาจะทำการรักษาให้ แต่ลุงมีบอกว่าท่านจงรักษาตนเองก่อนเถอะ

เพราะเหตุใดลุงมาจึง**ไม่ยอม**รักษากับลุงมี

- 1) ลุงมา ไม่เชื่อถือในคำพูดของลุงมี
- 2) ลุงมา กลัวเป็นโรคผิวหนังอย่างลุงมี
- 3) ลุงมา ไม่ขอปรึกษาด้วยยาสมุนไพรของลุงมี
- 4) ลุงมา เป็นโรคประจำตัวจึงไม่ต้องให้ลุงมีรักษา



4. พิจารณาภาพ แล้วตอบคำถาม



จากข้อมูลคนในหมู่บ้านนี้มีโอกาสป่วยเป็นโรคใดมากที่สุด เพราะเหตุใด

- 1) โรคระบบทางเดินหายใจเพราะฝุ่นควันจากการเผาไหม้
- 2) โรคของระบบประสาททำให้คนในหมู่บ้านเกิดความเครียด
- 3) โรคระบบทางเดินอาหารเพราะเชื้อเถ้าจากการเผาจะตกลงในแม่น้ำ
- 4) กล้ามเนื้ออักเสบเพราะคนในหมู่บ้านต้องหมั่นทำความสะอาดบ้านเรือน

5. พิจารณาข้อความ แล้วตอบคำถาม

บ้างชอบสะสม	ระดมเก็บหา
ไปเที่ยวไหนมา	เก็บเป็นเจ้าของ
เป็นที่ระลึกลับ	บ้างคึกคะนอง
เห็นสวยเป็นต้อง	หัก ดึง ลูบ คลำ

ถ้ามะลิปฏิบัติตามข้อความข้างต้น เป็นการเหมาะสมหรือไม่ เพราะเหตุใด

- 1) เหมาะสม เพราะมะลิจะได้มีของที่ระลึกไปฝากเพื่อนๆ
- 2) เหมาะสม เพราะมะลิจะได้ดูแลของที่ระลึกไม่ให้ถูกทำลาย
- 3) ไม่เหมาะสม เพราะบ้านของมะลิจะเต็มไปด้วยของที่ระลึก
- 4) ไม่เหมาะสม เพราะมะลิทำให้ธรรมชาติและสิ่งแวดล้อมถูกทำลาย



พิจารณาภาพ แล้วตอบคำถามข้อ 6 - 7



6. วิธีการคิดแก้ปัญหาของร้านกาแฟคุณโอ้เหมาะสมหรือไม่ เพราะเหตุใด

- 1) เหมาะสม เพราะเป็นการตอบสนองลูกค้า
- 2) เหมาะสม เพราะเป็นการปรับปรุงคุณภาพสินค้า
- 3) ไม่เหมาะสม เพราะจะเป็นการเพิ่มต้นทุนโดยไม่จำเป็น
- 4) ไม่เหมาะสม เพราะอาจจะสร้างความแตกแยกในกลุ่มแม่ค้าได้

7. จากข้อมูลจะเกิดเหตุการณ์ใด ถ้าในชุมชนนี้มีประชากรเพิ่มขึ้น

- 1) ร้านกาแฟคุณโอ้อย่างขายกาแฟได้เท่าเดิม
- 2) ร้านกาแฟคุณโอ้จะขายกาแฟได้มากขึ้น
- 3) ร้านกาแฟคุณโอ้จะมีคู่แข่งขายกาแฟมากขึ้น
- 4) ร้านกาแฟคุณโอ้จะปรับปรุงคุณภาพสินค้าให้ดีขึ้น

8. พิจารณาข้อความ แล้วตอบคำถาม

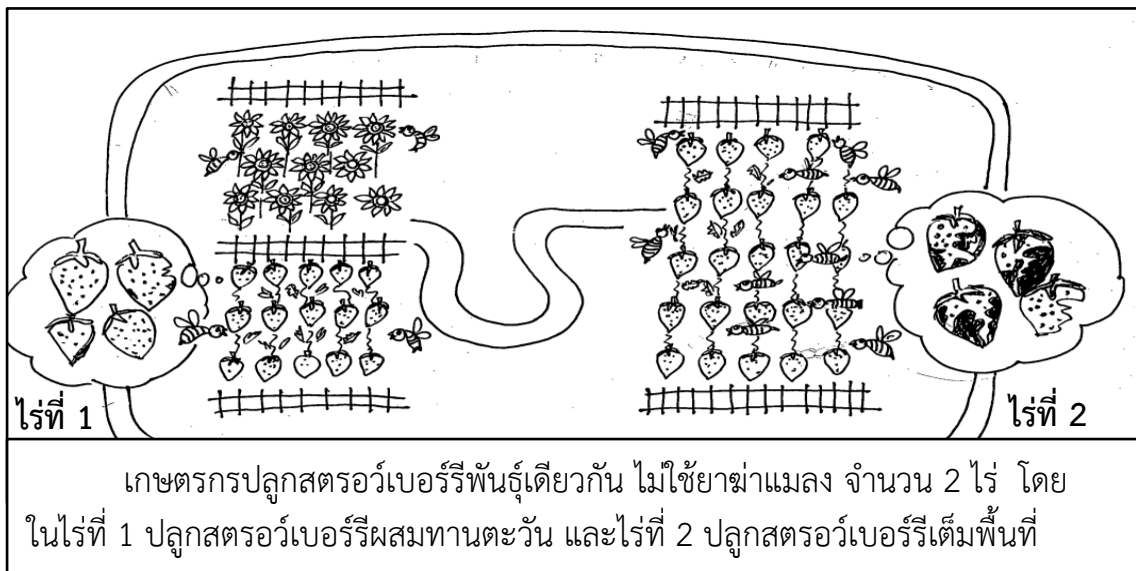
ตาแมนเป็นนักทอดแหที่เก่ง สามารถจับปลาได้ครั้งละมาก ๆ จนเป็นที่รู้จักของคนทั้งหมู่บ้าน ในการหาปลา ตาแมนจะใช้รังปลวกที่มีปลวกอาศัยอยู่ โยนลงไปในแหล่งน้ำก่อนการทอดแหทุกครั้ง จึงทำให้ได้ปลาจำนวนมาก

ตาแมนใช้วิธีการนี้หาปลา เพราะเหตุใด

- 1) ปลากินปลวกเป็นอาหาร
- 2) ปลวกกับปลาดำรงชีวิตแบบพึ่งพา
- 3) ปลวกมีสารกระตุ้นให้ปลามารวมตัวกัน
- 4) ปลาจะมารวมตัวกันโดยอาศัยดินจากรังปลวกในการหลบภัย



9. พิจารณาภาพ เกษตรกรปลูกสตรอว์เบอร์รี โดยไม่ใช้ยาฆ่าแมลง แล้วตอบคำถาม



ผลผลิตจากไร่ใดดีกว่ากัน เพราะเหตุใด

- 1) ไร่ที่ 1 เพราะ มีแมลงเจาะผลน้อย
- 2) ไร่ที่ 1 เพราะ สตรอว์เบอร์รีเป็นพันธุ์ที่ทนต่อแมลง
- 3) ไร่ที่ 2 เพราะ มีแมลงบินอยู่รอบๆ จำนวนมาก
- 4) ไร่ที่ 2 เพราะ มีแมลงกัดกินผลจำนวนมาก

10. พิจารณาข้อความ แล้วตอบคำถาม

ตั้งแต่วันที่ 21 เมษายน ไปจนถึงสิ้นเดือน ประเทศไทยตอนบนมีโอกาสเกิดพายุฝนฟ้าคะนอง ลมกรรโชกแรง ลูกเห็บตกในบางพื้นที่ จึงขอให้ประชาชนระวังอันตราย โดยอยู่ห่างจากต้นไม้ใหญ่ และสิ่งก่อสร้างที่ไม่แข็งแรง รวมทั้งรักษาสุขภาพร่างกายให้แข็งแรง

เพราะเหตุใดในข่าวนี ต้องเตือนให้รักษาสุขภาพร่างกายให้แข็งแรง

- 1) จะได้มีแรงขนสิ่งของหนีพายุฝนฟ้าคะนองได้
- 2) สามารถหลบหลีกจากบริเวณที่เกิดพายุได้ทัน
- 3) อาจทำให้เจ็บป่วยได้ง่าย จากอากาศที่เปลี่ยนแปลง
- 4) เมื่อพบต้นไม้ล้มหรือสิ่งกีดขวางจะสามารถแก้ไขปัญหาได้

11. พิจารณาข้อความ แล้วตอบคำถาม

วีรยาได้รับเงินค่าใช้จ่ายสัปดาห์ละ 120 บาท วีรยาเก็บเงินไว้สัปดาห์ละ 20 บาท ส่วนเงินที่เหลือแบ่งไว้ใช้เป็นค่าอาหาร ค่าขนม และค่าใช้จ่ายอื่นๆ ที่จำเป็น


การกระทำของวีรยาเหมาะสมหรือไม่ เพราะเหตุใด

- 1) เหมาะสม เพราะจะได้มีเงินออม
- 2) เหมาะสม เพราะได้ซื้อของที่ตนชอบ
- 3) ไม่เหมาะสม เพราะสัปดาห์ต่อไปแม่ก็ให้อีก
- 4) ไม่เหมาะสม เพราะเป็นเงินที่ต้องใช้ภายในสัปดาห์



12. พิจารณาข้อความ แล้วตอบคำถาม

กานดา จันทรา และเพื่อนๆ ต้องทำรายงานเรื่องประวัติชุมชนของเราโดยทำงานเป็นกลุ่ม



การกระทำของกานดาและเพื่อนๆ เหมาะสมหรือไม่ เพราะเหตุใด

- 1) เหมาะสม เพราะได้ข้อมูลที่น่าเชื่อถือ
- 2) เหมาะสม เพราะทุกคนร่วมกันทำงาน
- 3) ไม่เหมาะสม เพราะทำให้เสียเวลามาก
- 4) ไม่เหมาะสม เพราะได้ข้อมูลที่มากเกินไป

13. พิจารณาข้อความ แล้วตอบคำถาม



นักเรียนกลุ่มนี้ดำเนินการโดยใช้หลักการใด

- 1) ลดขยะให้หมดไป
- 2) ฝึกการทำงานประดิษฐ์
- 3) ต้องการสร้างรายได้เพิ่มขึ้น
- 4) นำของเหลือใช้มาทำให้เกิดประโยชน์



14. พิจารณาข้อความ แล้วตอบคำถาม

พ่อค้าขายลูกชิ้นปิ้ง เมื่อไม่มีลูกค้ามาซื้อก็จะปล่อยให้ถ่านในเตาหมดหมด เมื่อลูกค้ามาซื้อจึงจุดเตาใหม่ทำให้ลูกค้าต้องรอนาน ลูกค้าบางคนก็หมดความอดทนที่จะรอ

ถ้านักเรียนเป็นพ่อค้าลูกชิ้นปิ้งจะทำอย่างไร เพราะเหตุผลใด

- 1) จุดไฟขึ้นใหม่ใส่ถ่านน้อยๆ เพื่อประหยัดต้นทุน
- 2) จุดไฟขึ้นใหม่ใส่ถ่านมากๆ เพื่อให้ลูกชิ้นสุกเร็วขึ้น
- 3) ใส่ถ่านไว้สม่ำเสมอให้ไฟอ่อนๆ เพราะจะทำให้ขายลูกชิ้นได้เร็วขึ้น
- 4) ใส่ถ่านไว้สม่ำเสมอให้ไฟแรงๆ เพราะลูกชิ้นจะได้สุกเร็วทันใจลูกค้า

15. พิจารณาข้อความ แล้วตอบคำถาม

แดงปลูกพริก และสังเกตเห็นว่าต้นพริกที่ตัวเพลี้ยติดอยู่ที่ใบจะทำให้ใบหงิกงอ ยอดแห้ง แต่ต้นพริกที่มีแมลงเต่าทองเกาะอยู่จะมีความสมบูรณ์ แแดงจึงนำแมลงเต่าทองมาปล่อยไว้ที่ต้นพริก ที่มีใบหงิกงอ ผ่านไป 2 สัปดาห์ พบว่า ต้นพริกมีสภาพดีขึ้น

การกระทำของแดงมีเหตุผลอย่างไร

- 1) เพื่อป้องกันหนอนมากินใบพริก
- 2) เพื่อให้พริกมีขนาดเม็ดใหญ่ขึ้น
- 3) เพื่อช่วยให้แมลงเต่าทองช่วยกำจัดเพลี้ย
- 4) เพื่อช่วยให้ต้นพริกแตกยอดอ่อนมากขึ้น

16. พิจารณาข้อความ แล้วตอบคำถาม

ครอบครัวของเด็กชายรักชาติมีอาชีพเลี้ยงเป็ดและไก่ เด็กชายรักชาติต้องตื่นแต่เช้า ต้องช่วยพ่อแม่เก็บไข่เป็ดและไข่ไก่เป็นเวลา 1 ชั่วโมงก่อนไปโรงเรียนทุกวัน ซึ่งบ้านของเขาอยู่ห่างจากโรงเรียน 3 กิโลเมตร

เด็กชายรักชาติต้องวางแผนช่วยพ่อแม่ทำงาน และไปโรงเรียนอย่างไร จึงจะไปได้ทันเวลาและเหมาะสมที่สุด

- 1) ตื่นนอน 05.30 น. อาบน้ำ เก็บไข่ แต่งตัวไปโรงเรียน
- 2) ตื่นนอน 06.00 น. เก็บไข่ อาบน้ำ แต่งตัวไปโรงเรียน
- 3) ตื่นนอน 06.30 น. อาบน้ำ เก็บไข่ แต่งตัวไปโรงเรียน
- 4) ตื่นนอน 07.00 น. เก็บไข่ อาบน้ำ แต่งตัวไปโรงเรียน



17. พิจารณาข้อความ แล้วตอบคำถาม


นักเรียนกลุ่มหนึ่งต้องการศึกษาประวัติความเป็นมาของสถานที่สำคัญในชุมชน และต้องการสัมภาษณ์บุคคลต่างๆ ซึ่งแต่ละคนมีเวลาว่าง ดังนี้

บุคคล	วันว่างของบุคคล
ครู	จันทร์ พุธ ศุกร์
ผู้ใหญ่บ้าน	จันทร์ อังคาร พุธ พฤหัสบดี ศุกร์
ผู้นำศาสนา	อังคาร พุธ พฤหัสบดี ศุกร์

การวางแผนเพื่อไปสัมภาษณ์ นักเรียนควรนัดคณะทำงานในวันตามข้อใดจึงจะได้ข้อมูลครบถ้วน

- 1) วันจันทร์ วันอังคาร
- 2) วันอังคาร วันพุธ
- 3) วันพุธ วันศุกร์
- 4) วันพฤหัสบดี วันศุกร์

18. พิจารณาภาพ แล้วตอบคำถาม



ถ้านักเรียนเป็นมาลียะเลือกปฏิบัติตามข้อใด เพราะเหตุใด

- 1) เรียกคนแปลกหน้าเข้ามาในบ้าน เพราะฝนตกหนักเขาจะเปียก
- 2) เรียกคนแปลกหน้าเข้ามาในบ้าน เพราะสงสารกลัวเขาจะป่วย
- 3) ไม่เรียกคนแปลกหน้าเข้ามาในบ้าน เพราะมีที่หลบฝนที่หน้าบ้านแล้ว
- 4) ไม่เรียกคนแปลกหน้าเข้ามาในบ้าน เพราะไม่รู้จักอาจเกิดอันตรายได้

19. พิจารณาข้อความ แล้วตอบคำถาม

มะลิขับรถเพื่อไปรับลูกที่โรงเรียน รถของสมปองเสียกะทันหัน รถของมะลิจึงชนกับรถของสมปอง สมปองโมโหมากจึงลงจากรถมาต่อว่ามะลิ

การกระทำของสมปอง เหมาะสมหรือไม่ เพราะเหตุใด

- 1) เหมาะสม เพราะรถสมปองถูกชน
- 2) เหมาะสม เพราะสมปองกำลังโมโห
- 3) ไม่เหมาะสม เพราะสมปองเป็นฝ่ายผิด
- 4) ไม่เหมาะสม เพราะเป็นอุบัติเหตุที่เกิดจากรถเสียกะทันหัน



20. พิจารณาภาพ แล้วตอบคำถาม



แก้วจะมีส่วนร่วมในการรักษาความสะอาดบริเวณรอบๆ โรงเรียนอย่างไร

- 1) บอกพ่อค้าแม่ค้าให้ช่วยกันรักษาความสะอาด
- 2) แจ้งเจ้าหน้าที่ที่เกี่ยวข้องเพื่อแก้ปัญหา
- 3) ขอร้องให้ภารโรงขุดบ่อสำหรับทิ้งขยะรอบๆ โรงเรียน
- 4) ตัดป้ายเชิญชวนรักษาความสะอาดรอบๆ โรงเรียน

21. พิจารณาภาพและข้อความ แล้วตอบคำถาม



คุณแม่ทำลูกกัญแจขนาดเล็กตกลงไปในโอ่งน้ำขนาดใหญ่มาก และมีน้ำเกือบเต็มโอ่ง เด็กชายโก๊ะคิดวิธีการในการนำลูกกัญแจมาให้คุณแม่ได้ 2 วิธีคือ
วิธีที่ 1 ตักน้ำออกจากโอ่งให้หมด
วิธีที่ 2 ใช้เชือกผูกแม่เหล็กหย่อนลงไปในโอ่งโดยยังมีน้ำอยู่ในโอ่ง

เด็กชายโก๊ะควรเลือกใช้วิธีใดจึงจะเหมาะสมที่สุด เพราะเหตุใด

- 1) วิธีที่ 1 เพราะจะได้หยิบลูกกัญแจง่าย ๆ
- 2) วิธีที่ 1 เพราะน้ำประปาที่บ้านไหลดี เติมน้ำใหม่ได้
- 3) วิธีที่ 2 เพราะลูกกัญแจเป็นโลหะแม่เหล็กสามารถดูดขึ้นมาได้
- 4) วิธีที่ 2 เพราะแม่เหล็กจะดันลูกกัญแจมาข้าง ๆ โอ่ง แล้วใช้มือหยิบได้

22. พิจารณาข้อความ แล้วตอบคำถาม

บุญมียินดีที่จะปลูกผัก โดยไม่ใช้ยาฆ่าแมลง แม้จะได้ผลผลิตที่มีตำหนิและได้จำนวนน้อย

เหตุผลใดสนับสนุนความคิดของบุญมีได้เหมาะสมที่สุด

- | | |
|-------------------------|---------------------------|
| 1) ตลาดไม่ต้องการ | 2) ผู้บริโภคมีสุขภาพที่ดี |
| 3) ธาตุอาหารในดินจะลดลง | 4) เพียงพอต่อความต้องการ |



23. พิจารณาภาพ แล้วตอบคำถาม



นักเรียน ป.3/1 ใช้แนวคิดใดในการแก้ปัญหา

- 1) นักเรียนตักอาหารให้เหมาะสม
- 2) นักเรียนไม่กินเกินความต้องการ
- 3) นักเรียนบอกผู้ตักว่าต้องการเท่าใด
- 4) นักเรียนบางคนคิดว่าอาหารเหลือดีกว่ากินไม่อิ่ม

24. พิจารณาข้อความ แล้วตอบคำถาม

เทียนปลูกข้าวโพดเพื่อขายเป็นรายได้ของครอบครัว แต่ปีนี้ไม่มีพ่อค้ามารับซื้อ เทียนจึงนำข้าวโพดไปเททิ้งบนถนนเพื่อเรียกร้องพ่อค้าและผู้นำชุมชนให้มาช่วยแก้ปัญหา

การกระทำของเทียนเหมาะสมหรือไม่ เพราะเหตุใด

- 1) เหมาะสม เพราะพ่อค้าจะช่วยแก้ปัญหาได้
- 2) เหมาะสม เพราะผู้นำชุมชนจะได้หาทางช่วยเหลือ
- 3) ไม่เหมาะสม เพราะทำลายสิ่งแวดล้อมในชุมชน
- 4) ไม่เหมาะสม เพราะจะทำให้เกิดปัญหาจราจรต่อส่วนรวม



25. พิจารณาข้อความ แล้วตอบคำถาม

หลังเลิกเรียนเอ้กับเอกเดินทางกลับบ้านพบกระเป๋าสตางค์ตกอยู่หน้าโรงเรียน
ในกระเป๋ามีเงินอยู่ 500 บาท ทั้งสองคนจึงพร้อมใจกันนำกระเป๋าสตางค์ไปมอบให้คุณครู

การกระทำของเอ้กับเอก ถูกต้องหรือไม่ เพราะเหตุใด

- 1) ถูก เพราะจะได้รับคำชมเชยจากครู
- 2) ถูก เพราะครูจะได้ตามหาและส่งคืนเจ้าของ
- 3) ไม่ถูก เพราะครูต้องไปเสียเวลาตามหาเจ้าของกระเป๋า
- 4) ไม่ถูก เพราะกระเป๋าตกนอกโรงเรียนควรมอบให้ผู้ปกครอง

พิจารณาภาพ แล้วตอบคำถามข้อ 26 – 27



26. จากภาพ คำพูดของยายถูกต้องหรือไม่ เพราะเหตุใด

- 1) ถูกต้อง เพราะจะทำให้สมาธิในการทำการบ้านลดลง
- 2) ถูกต้อง เพราะทำอะไรหลายอย่างเวลาเดียวกันทำให้งานออกมาดี
- 3) ไม่ถูกต้อง เพราะการดู TV ช่วยให้การบ้านอย่างมีความสุข
- 4) ไม่ถูกต้อง เพราะการดู TV ช่วยให้เกิดความคิดในการทำการบ้านได้ดี

27. จากภาพ ถ้าแนนมีผลการเรียนลดลง แนนควรแก้ปัญหาอย่างไรจึงจะเหมาะสมที่สุด

- 1) ทำการบ้านโดยฟังแต่เสียงทีวี
- 2) ทำการบ้านและดูทีวีเหมือนเดิมแต่อ่านหนังสือเพิ่มขึ้น
- 3) ทำการบ้านให้เสร็จที่โรงเรียนแล้วดูทีวีที่บ้านอย่างเต็มที่
- 4) ทำการบ้านอ่านหนังสือและพักผ่อนอย่างเต็มที่โดยไม่ดูทีวี



ชื่อ..... นามสกุล.....โรงเรียน.....ห้องที่... เลขที่.....

ตอนที่ 2 แบบเขียนตอบ ข้อ 28 – 30 ให้นักเรียนเขียนเติมคำตอบให้ถูกต้อง

28. พิจารณาข้อความ แล้วตอบคำถาม

	<p>“ คนสุบได้รับพิษ คนใกล้ชิดได้รับภัย ”</p>
---	---

จากข้อความ นักเรียนเห็นด้วยหรือไม่ เพราะเหตุใด

ตอบ.....
.....


29. พิจารณาภาพ แล้วตอบคำถาม



บริเวณบ้านของนก



บริเวณบ้านของจอม




บริเวณบ้านของแดง

จากภาพ ใครมีโอกาสจะเป็นโรคเกี่ยวกับทางเดินหายใจมากที่สุด เพราะเหตุใด

ตอบ.....
.....

30. พิจารณาภาพ แล้วตอบคำถาม



โรงเรียนแห่งหนึ่งมีนักเรียนทิ้งขยะไม่เป็นที่ และทิ้งไม่ลงถังขยะ ทำให้โรงเรียนสกปรกไม่สวยงาม ให้นักเรียนหาวิธีการแก้ปัญหาเรื่องการทิ้งขยะของโรงเรียนที่มีผลกระทบต่อสภาพแวดล้อมน้อยที่สุด พร้อมอธิบายเหตุผลประกอบ (ตอบจำนวน 4 วิธี)

ตอบ.....
.....
.....
.....
.....